

GEOGRAFIA

51. O rompimento de uma barragem da mineradora Samarco, em novembro de 2015, considerado o maior desastre ambiental do Brasil, causou uma enxurrada de lama com rejeitos, na região de Mariana (MG).

Considere as afirmações abaixo, sobre as consequências desse desastre.

- I - O impacto ambiental do rompimento, que vazou 35 bilhões de litros de rejeitos de minérios, atingiu a vida aquática, as faixas de matas ciliares, bem como o litoral do Espírito Santo.
- II - A lama contaminada, oriunda da barragem, abalou o abastecimento de água de várias cidades ao longo da bacia do Rio Doce.
- III - A lama contaminada modificou a composição do solo, ao longo de 650 km do Rio Doce e seus afluentes, tornando-o improdutivo naqueles locais em que houve a deposição dos sedimentos.

Quais estão corretas?

- (A) Apenas I.
(B) Apenas II.
(C) Apenas III.
(D) Apenas II e III.
(E) I, II e III.

52. Considere as afirmações abaixo, sobre a Teoria da Tectônica de Placas.

- I - A litosfera, de acordo com essa teoria, está fragmentada em placas rígidas que se movimentam.
- II - As placas tectônicas são movidas pela convecção do manto, e a energia vem do calor interno da Terra.
- III - Os limites das placas apresentam feições de grandes proporções, como estreitos cinturões de montanhas, cinturões de terremotos e cadeias de vulcões.

Quais estão corretas?

- (A) Apenas I.
(B) Apenas II.
(C) Apenas III.
(D) Apenas II e III.
(E) I, II e III.

53. Uma das partidas de Voleibol Sentado, disputada durante as Paraolimpíadas em setembro de 2016, às 22h, no Rio de Janeiro, foi transmitida, simultaneamente, a que horas em Fernando de Noronha e no Amazonas?

- (A) 23h e 21h.
(B) 23h e 20h.
(C) 22h e 21h.
(D) 21h e 23h.
(E) 21h e 20h.

54. Em um mapa do Brasil, cuja escala é 1: 25.000.000, a distância em linha reta, entre Porto Alegre (RS) e Palmas (TO), é de 9 cm.

A partir dessa informação, assinale a alternativa que indica a distância real, em quilômetros, em linha reta, entre Porto Alegre e Palmas.

- (A) 225.
(B) 900.
(C) 2.250.
(D) 9.000.
(E) 22.500.

55. Um grupo de exploradores está pesquisando em um sítio arqueológico, localizado nas coordenadas geográficas 0° e 120° L.

Sobre a localização desse sítio, é correto afirmar que se encontra no

- (A) hemisfério norte.
(B) continente asiático.
(C) continente americano.
(D) hemisfério ocidental.
(E) continente africano.

56. Considere as afirmações abaixo, sobre os tipos de rochas encontrados na crosta terrestre.

- I - Rochas ígneas, formadas pela solidificação do magma em profundidade, são chamadas de vulcânicas.
- II - Rochas sedimentares são formadas a partir da deposição e da litificação de fragmentos de outras rochas da superfície terrestre que sofreram intemperismo e erosão.
- III- Rochas metamórficas são formadas a partir da transformação de rochas preexistentes, submetidas a grandes pressões e a grandes temperaturas.

Quais estão corretas?

- (A) Apenas I.
- (B) Apenas II.
- (C) Apenas III.
- (D) Apenas II e III.
- (E) I, II e III.

57. Sobre a erosão do solo, é correto afirmar que é um processo

- (A) artificial, causado unicamente pela ação predatória humana em relação aos recursos naturais.
- (B) de desgaste do solo, causado unicamente pelos agentes ventos, chuvas, rios, geleiras e mares.
- (C) causado por agentes naturais e antrópicos que afeta as atividades humanas e acelera a perda de terra fértil no mundo.
- (D) favorável à formação de terras adequadas para a agricultura.
- (E) relacionado a agentes tanto naturais quanto antrópicos, mas somente a erosão causada pela ação antrópica é importante, pois a erosão natural não afeta atividades humanas.

58. Considere as afirmações abaixo, sobre o Sistema Aquífero Guarani.

- I - É um gigantesco reservatório de água subterrânea, que abrange cerca de 1,2 milhão de km², espalhando-se por Paraguai, Uruguai, Argentina e oito estados brasileiros.
- II - Possui 100% de água potável, disponível e suficiente para o abastecimento de todos os moradores da América do Sul pelos próximos 2.500 anos.
- III- Apresenta heterogeneidade, com relação a sua potencialidade, com poços secos em camadas quase impermeáveis, que isolam outras camadas aquíferas de boa permeabilidade e poços de ótima vazão, o que significa que nem sempre é possível obter água potável de boa qualidade nesse sistema.

Quais estão corretas?

- (A) Apenas I.
- (B) Apenas II.
- (C) Apenas III.
- (D) Apenas I e III.
- (E) I, II e III.

59. Os oceanos são grandes fontes de alimento pela riqueza de sua vida marinha, embora, nos últimos tempos, venham enfrentando problemas ambientais, provocados por ações humanas.

Considere as seguintes afirmações sobre os problemas ambientais dos oceanos.

- I - As águas oceânicas recebem todos os produtos derivados de atividades industriais, mas suas grandes extensões reduzem a concentração dos poluentes, não oferecendo grandes riscos à fauna marinha.
- II - A pesca predatória, em escala industrial, retira do mar milhares de toneladas de peixes sem nenhum controle quanto à seleção das espécies e à época de reprodução de cada uma, o que pode levar cardumes inteiros ao desaparecimento.
- III- Os acidentes de manutenção nas plataformas de gás e petróleo são responsáveis pela maior parte das descargas de óleo nos oceanos.

Quais estão corretas?

- (A) Apenas I.
- (B) Apenas II.
- (C) Apenas III.
- (D) Apenas II e III.
- (E) I, II e III.

-
60. Leia o segmento abaixo.

A realidade geográfica apresenta-se então como composta por três elementos fundamentais: um substrato plástico, uma energia de circulação, produzida pelos contatos entre forças opostas, e um conjunto de formas que são como que o efeito desta energia sobre o substrato, justamente sua inscrição. É este último plano, o das inscrições, entendido como fisionomia da Terra, que é o plano propriamente geográfico, aquele onde houve, efetivamente, *escrita* da Terra.

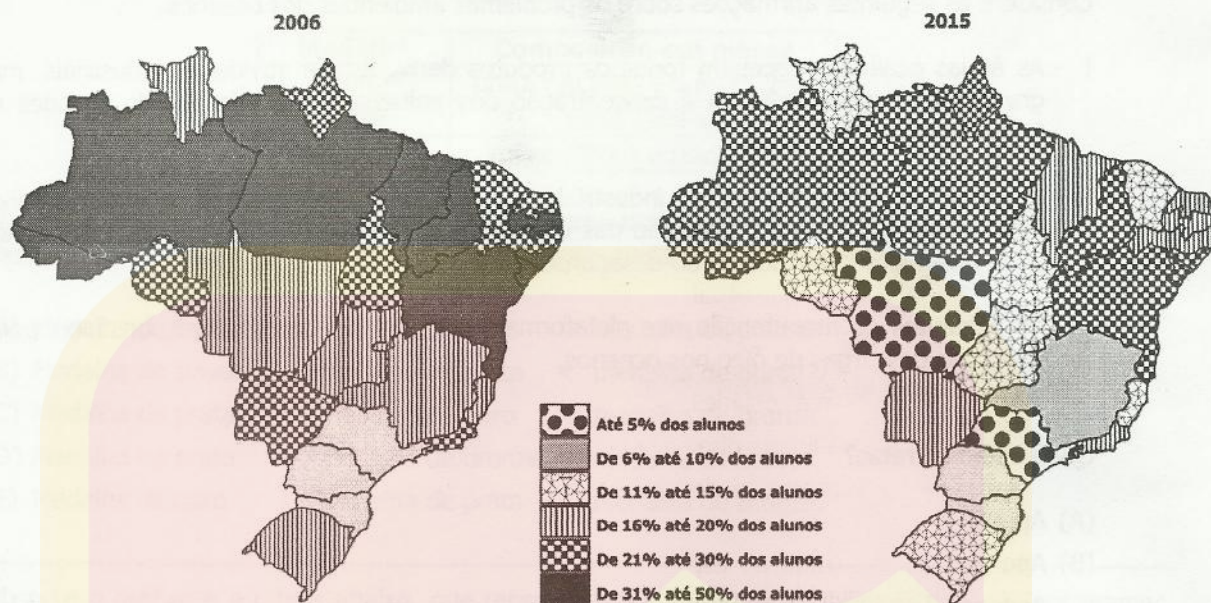
BESSE, J.M. *Ver a Terra*. São Paulo: Perspectiva, 2006. p. 71.

O conceito geográfico referido pelo texto é

- (A) lugar.
- (B) território.
- (C) espaço.
- (D) escala.
- (E) paisagem.

61. Observe as figuras abaixo.

Distorção idade-série por UF no Brasil



Fonte: Inep, 2015. Disponível em: <<http://www.qedu.org.br/brasil>>. Acesso em: 3 out. 2016.

As figuras mostram a proporção de alunos com atraso escolar de 2 anos ou mais, em todo o Ensino Básico, nos anos de 2006 e 2015, no Brasil, por Unidade da Federação (UF).

Assinale a alternativa correta sobre a distorção entre idade e série, no Brasil, entre 2006 e 2015.

- (A) Os percentuais de alunos com atraso escolar, em todas as UFs, apresentam redução.
- (B) Minas Gerais e Rondônia apresentam as maiores quedas nas suas taxas, o que reduz pela metade o percentual de alunos com atraso escolar.
- (C) O Norte do Brasil abriga os maiores percentuais de alunos em defasagem idade-série nos dois anos.
- (D) A região Centro-Oeste registrou maior redução do percentual de alunos com defasagem idade-série, exceto o Mato Grosso.
- (E) Vários estados não apresentaram mudanças de valores percentuais, o que acarretou pouca diferença no que se refere ao atraso escolar nas UFs.

62. Leia o segmento abaixo.

Uma grande modificação estrutural ocorreu no povoamento regional, agora localizado ao longo das rodovias e não mais ao longo da rede fluvial, e no crescimento demográfico, sobretudo urbano. Processou-se, na região, uma penosa mobilidade espacial, com forte migração e contínua expropriação da terra e, assim, foi marcado o processo de urbanização. Em vista disso, a Amazônia teve a maior taxa de crescimento urbano no país, nas últimas décadas. No censo de 2000, 70% da população da região Norte estavam localizados em núcleos urbanos, embora carentes dos serviços básicos.

BECKER, B. Geopolítica da Amazônia. *Estudos Avançados*, 19 (53), 2005. p. 73.

Sobre a Região Amazônica, é correto afirmar que

- (A) o povoamento regional atual ocorre ao longo da rede fluvial, privilegiando os grandes rios amazônicos.
- (B) a região tornou-se uma "floresta urbanizada", pois a urbanização não se mede só pelo crescimento e surgimento de novas cidades.
- (C) a urbanização está ligada diretamente à industrialização da região.
- (D) a urbanização estancou o desmatamento, visto que poucas pessoas continuam morando em regiões rurais.
- (E) ela é pouco integrada ao espaço brasileiro, e tem sua economia e ligação territorial voltadas para o exterior, devido às grandes distâncias em relação ao centro do país.

63. Observe a tabela abaixo.

Proporção da população residente de 0 a 14 anos, de 15 a 64 anos e de 65 anos ou mais na população total, por situação do domicílio - Brasil - 1960/2010

Anos	Proporção da população de 0 a 14 anos (%)			Proporção da população de 15 a 64 anos (%)			Proporção da população de 65 anos ou mais (%)		
	Total	Urbana	Rural	Total	Urbana	Rural	Total	Urbana	Rural
1960	42,7	38,6	46,0	54,6	58,2	51,6	2,7	3,2	2,4
1970	42,1	38,8	46,3	54,8	57,7	51,0	3,1	3,5	2,7
1980	38,2	35,4	44,2	57,7	60,5	52,1	4,0	4,1	3,8
1991	34,7	32,9	40,3	60,4	62,2	55,0	4,8	4,9	4,7
2000	29,6	28,4	35,0	64,6	65,8	59,3	5,9	5,9	5,7
2010	24,1	23,2	28,6	68,5	69,4	63,9	7,4	7,4	7,6

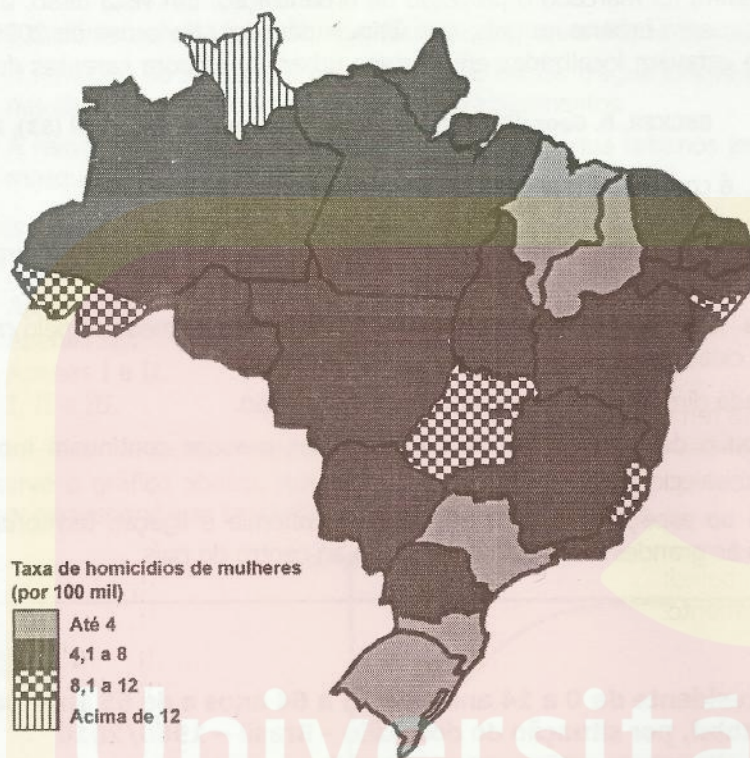
Fonte: IBGE, Censo demográfico 1960/2010.

Sobre os dados apresentados, é correto afirmar que

- (A) os números indicam o processo de envelhecimento da população brasileira, a subsequente diminuição da população jovem e a entrada do país no período chamado "bônus demográfico".
- (B) a estrutura da população é típica de um país não desenvolvido, com predominância de jovens sobre idosos, devido às taxas de natalidade ainda altas e à baixa expectativa de vida.
- (C) a baixa variação apresentada nas porcentagens mostra que nada mudou sobre a estrutura da população, nos últimos 50 anos, no Brasil.
- (D) a razão de dependência é extremamente alta nos dois últimos censos, o que provoca pouca arrecadação e problemas para o sistema de previdência social.
- (E) a população brasileira está estagnada em seu crescimento, o que se reflete nas porcentagens, ao longo do período de 50 anos, mostradas na tabela.

64. Observe a figura e o quadro abaixo.

Taxa de homicídios de mulheres por UF no Brasil, em 2013



Disponível em:
<http://www.mapadaviolencia.or.br/pd2015/MapaViolencia_2015_mulheres.pdf>.
Acesso em: 3 out.2016.

Variação da taxa de homicídios de mulheres 2006/2013 por UF	
AC	89,2
AP	25,8
AM	64,8
PA	46,7
RO	-5,5
RR	131,3
TO	67,7
AL	27,3
BA	68,4
CE	96,1
MA	83,2
PB	91,4
PE	-22,3
PI	39,8
RN	97,6
SE	30,2
ES	-10,8
MG	5,9
RJ	-27,4
SP	-23,7
PR	10,1
RS	30,6
SC	3,1
DF	41,1
GO	73,9
MT	15,5
MS	23,2

Considerando a figura que apresenta a distribuição dos homicídios de mulheres por Unidade da Federação (UF), no Brasil, em 2013, e o quadro que indica variação dessa taxa entre 2006 e 2013, depois de promulgada a Lei Maria da Penha, assinale a alternativa correta.

- (A) As taxas de homicídios têm distribuição uniforme nas UFs.
- (B) As taxas de homicídios não sofreram redução, uma vez que houve registros de mortes em todas as UFs.
- (C) A tendência de violência no Norte do país é evidenciada pelo crescimento uniforme das taxas, em todas as UFs da região.
- (D) Acre, Goiás, Alagoas e Espírito Santo apresentaram, em 2013, taxas de homicídios duas vezes maiores que o Rio Grande do Sul, Santa Catarina e São Paulo.
- (E) Cinco UFs registraram quedas nas taxas de homicídios, três delas no Sudeste do país.

65. Observe a tabela abaixo.

Tipos de estabelecimentos agropecuários e respectiva área de ocupação no Brasil, em 2006

Estabelecimentos	Total de estabelecimentos	Área Total (ha)
Agricultura familiar – Lei nº 11.326	4.367.902	80.250.453
Não familiar	807.587	249.690.940
Total	5.175.489	329.941.393

Fonte: IBGE, Censo Agropecuário 2006.

Considere as afirmações abaixo, sobre a estrutura agrária brasileira.

- I - A relação entre total de estabelecimentos e área ocupada pelas duas tipologias mostra a extrema concentração de terras no Brasil.
- II - A predominância de estabelecimentos de agricultura familiar demonstra equilibrada distribuição de terras no Brasil.
- III- A predominância de estabelecimentos familiares fica evidente pela ocupação de mais de 50% da área total dos estabelecimentos agropecuários.

Quais estão corretas?

- (A) Apenas I.
- (B) Apenas II.
- (C) Apenas III.
- (D) Apenas I e III.
- (E) I, II e III.

66. Sobre as migrações internacionais que ganham cada vez mais destaque nos dias atuais, é correto afirmar que

- (A) a população, ao sair de seu país de origem, é denominada imigrante e, ao entrar no novo país, é chamada de emigrante.
- (B) o Brasil tem atraído poucos migrantes, em função das dificuldades de instalação e de adaptação da população.
- (C) as catástrofes naturais são as principais causas de migrações externas.
- (D) as medidas tomadas pela maioria dos países desenvolvidos para restringir a entrada de imigrantes têm intensificado o tráfico de pessoas.
- (E) a crise econômica que afeta os países europeus afasta os migrantes, motivo pelo qual não têm buscado abrigo nesse continente.

67. Observe a figura abaixo.



Adaptado de: Organização Mundial do Comércio.

Os blocos regionais, assinalados numericamente de 1 a 3 no mapa, são, respectivamente,

- (A) Mercosul (Mercado Comum do Sul); APEC (Cooperação Econômica Ásia-Pacífico); Sapta (Acordo Comercial Preferencial do Sul da Ásia).
- (B) UNASUL (União das Nações Sul-Americanas); Ecowas (Comunidade Econômica dos Estados da África Ocidental); Asean (Associação das Nações do Sudeste Asiático).
- (C) Mercosul (Mercado Comum do Sul); SADC (Comunidade de Desenvolvimento da África Austral); Asean (Associação das Nações do Sudeste Asiático).
- (D) Comunidade Andina; União Africana; APEC (Cooperação Econômica Ásia-Pacífico).
- (E) Mercosul (Mercado Comum do Sul); Ecowas (Comunidade Econômica dos Estados da África Ocidental); APEC (Cooperação Econômica Ásia-Pacífico).

68. Considere as afirmações abaixo, sobre a mobilidade urbana no Brasil.

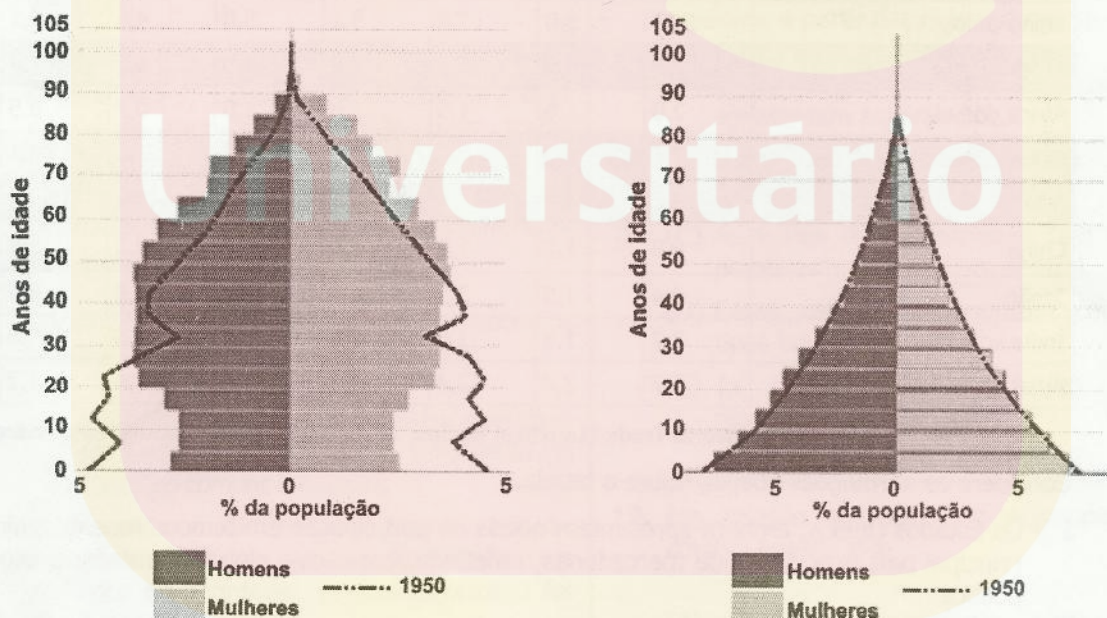
- I - A mobilidade aumenta com a renda e varia em função das características econômicas e sociais das pessoas, além de vir acompanhada de diferenças no uso dos modos de transporte.
- II - O modo "a pé" ainda representa parcela significativa dos deslocamentos urbanos no Brasil, apesar do aumento de uso do transporte individual (carro).
- III- O investimento em trens, nas grandes metrópoles brasileiras, tem transformado essa modalidade na maior transportadora de passageiros.

Quais estão corretas?

- (A) Apenas I.
- (B) Apenas II.
- (C) Apenas III.
- (D) Apenas I e II.
- (E) I, II e III.

69. Observe os gráficos abaixo.

Os gráficos, em forma de pirâmides, referem-se à distribuição da população, por continente, no ano de 2010, comparada à respectiva representação pontilhada de 1950.



Disponível em:
<http://atlasescolar.ibge.gov.br/images/atlas/mapas_mundo/mundo_piramides_etarias.pdf>.
Acesso em: 18 set. 2016.

Os gráficos retratam a distribuição da população, respectivamente, nos continentes

- (A) africano e americano.
- (B) europeu e americano.
- (C) americano e europeu.
- (D) asiático e africano.
- (E) europeu e africano.

70. Observe a tabela abaixo.

Mundo: exportações de mercadorias por regiões e economias selecionadas

Ano	1948	1953	1963	1973	1983	1993	2003	2015
Valor (bilhões de dólares)								
Mundo	59	84	157	579	1.838	3.688	7.380	15.985
Participação em porcentagem								
América do Norte	28,1	24,8	19,9	17,3	16,8	17,9	15,8	14,4
Estados Unidos	21,6	14,6	14,3	12,2	11,2	12,6	9,8	9,4
Canadá	5,5	5,2	4,3	4,6	4,2	3,9	3,7	2,6
México	0,9	0,7	0,6	0,4	1,4	1,4	2,2	2,4
Américas do Sul e Central	11,3	9,7	6,4	4,3	4,5	3,0	3,0	3,4
Brasil	2,0	1,8	0,9	1,1	1,2	1,0	1,0	1,2
Chile	0,6	0,5	0,3	0,2	0,2	0,2	0,3	0,4
Europa	35,1	39,6	47,8	50,9	43,5	45,3	45,9	37,3
Alemanha	1,4	5,3	9,3	11,7	9,2	10,3	10,2	8,3
Países Baixos	2,0	3,0	3,6	4,7	3,5	3,8	4,0	3,5
França	3,4	4,8	5,2	6,3	5,2	6,0	5,3	3,2
Reino Unido	11,3	9,0	7,8	5,1	5,0	4,9	4,1	2,9
África	7,3	6,5	5,7	4,8	4,5	2,5	2,4	2,4
África do Sul	2,0	1,6	1,5	1,0	1,0	0,7	0,5	0,5
Oriente Médio	2,0	2,7	3,2	4,1	6,7	3,5	4,1	5,3
Ásia	14,0	13,4	12,5	14,9	19,1	26,0	26,1	34,2
China	0,9	1,2	1,3	1,0	1,2	2,5	5,9	14,2
Japão	0,4	1,5	3,5	6,4	8,0	9,8	6,4	3,9
Índia	2,2	1,3	1,0	0,5	0,5	0,6	0,8	1,7
Austrália e Nova Zelândia	3,7	3,2	2,4	2,1	1,4	1,4	1,2	1,4

Fonte: World Trade Statistical Review 2016, Organização Mundial do Comércio (WTO).

Considere as afirmações abaixo, sobre a tabela.

- I - Os Estados Unidos, embora apresentem queda de participação em tempos recentes, ainda são o principal país exportador de mercadorias, refletindo, em escala global, dominância econômica e política.
- II - As exportações de mercadorias têm apresentado pouca variação positiva desde o pós-IIª guerra.
- III- A Ásia é cada vez mais importante no comércio mundial de mercadorias, o que se reflete no aparecimento da China como líder.

Quais estão corretas?

- (A) Apenas I.
- (B) Apenas II.
- (C) Apenas III.
- (D) Apenas I e III.
- (E) I, II e III.

71. Observe o quadro abaixo.

Quadro de medalhas – Rio 2016 – Os 20 maiores ganhadores

Posição	País	Ouro	Prata	Bronze	Total
1°	Estados Unidos	46	37	38	121
2°	Grã-Bretanha	27	23	17	67
3°	China	26	18	26	70
4°	Federação da Rússia	19	18	19	56
5°	Alemanha	17	10	15	42
6°	Japão	12	8	21	41
7°	França	10	18	14	42
8°	Coreia do Sul	9	3	9	21
9°	Itália	8	12	8	28
10°	Austrália	8	11	10	29
11°	Países Baixos	8	7	4	19
12°	Hungria	8	3	4	15
13°	Brasil	7	6	6	19
14°	Espanha	7	4	6	17
15°	Quênia	6	6	1	13
16°	Jamaica	6	3	2	11
17°	Croácia	5	3	2	10
18°	Cuba	5	2	4	11
19°	Nova Zelândia	4	9	5	18
20°	Canadá	4	3	15	22

Considere as afirmações abaixo, a respeito do quadro.

- I - Somente países considerados desenvolvidos economicamente ganharam medalhas suficientes para aparecer entre os 20 melhores.
- II - A distribuição de medalhas entre os países foi desigual, pois poucos países concentraram a maioria das medalhas; os 10 primeiros ganharam mais da metade das medalhas totais.
- III- O nível de desenvolvimento econômico dos países para a quantidade de medalhas obtidas é irrelevante, pois o quadro demonstra a distribuição equilibrada entre os continentes.

Quais estão corretas?

- (A) Apenas I.
- (B) Apenas II.
- (C) Apenas III.
- (D) Apenas II e III.
- (E) I, II e III.

72. Leia o trecho da música Disneylândia, da banda Titãs.

Armênios naturalizados no Chile
Procuram familiares na Etiópia.
Casas pré-fabricadas canadenses
Feitas com madeira colombiana.
Multinacionais japonesas
Instalam empresas em Hong-Kong
E produzem com matéria-prima brasileira
Para competir no mercado americano.

Literatura grega adaptada
Para crianças chinesas da comunidade europeia.
Relógios suíços falsificados no Paraguai
Vendidos por camelôs no bairro mexicano de Los Angeles.
Turista francesa fotografada seminua com o namorado árabe
Na Baixada Fluminense.

O trecho acima retrata a dinâmica resultante do processo de

- (A) globalização.
- (B) empobrecimento.
- (C) migração.
- (D) enriquecimento.
- (E) independência.

73. Assinale com **V** (verdadeiro) ou **F** (falso) as afirmações abaixo, sobre a capacidade hídrica e o uso da água no Brasil.

- () O Brasil é um dos países em que esse recurso é mais disponível, o que se reflete, então, no fato de não haver dificuldade de acesso para seu consumo.
- () O estresse hídrico é evidente, como comprovam as secas em várias partes do país, especialmente no Nordeste.
- () O país aparece com os maiores problemas de abastecimento no *ranking* da ONU, em razão de a distribuição de água doce ser irregular.
- () O uso da água é abundante; os maiores consumidores são a agricultura (em torno de 75%), depois, em ordem decrescente, indústria, uso animal, consumo humano urbano e consumo humano rural.

A sequência correta de preenchimento dos parênteses, de cima para baixo, é

- (A) V – V – V – F.
- (B) F – F – F – V.
- (C) F – V – F – V.
- (D) V – F – V – F.
- (E) V – F – F – V.

74. Sobre os aspectos físicos do Rio Grande do Sul, considere as seguintes afirmações.

- I - O Estado apresenta variedade geomorfológica: planícies, planaltos e depressões.
- II - A Bacia Hidrográfica do rio Camaquã, que cobre o setor norte e oeste do Estado, apresenta potencial de navegação e potencial hidrelétrico.
- III- A cobertura vegetal é composta por áreas de floresta tropical, mata de araucárias, mangues e campos.

Quais estão corretas?

- (A) Apenas I.
- (B) Apenas II.
- (C) Apenas III.
- (D) Apenas I e II.
- (E) I, II e III.

75. Observe a tabela abaixo.

Total de imigrantes, emigrantes e saldo migratório, segundo as três microrregiões com maior saldo migratório e as três microrregiões com menor saldo migratório, no RS — 1995-2000 e 2005-2010

MICRORREGIÕES E ESTADO	1995 A 2000			MICRORREGIÕES E ESTADO	2005 A 2010		
	Imigrantes	Emigrantes	Saldo Migratório		Imigrantes	Emigrantes	Saldo Migratório
Maiores saldos				Maiores saldos			
Porto Alegre	177.532	139.554	37.978	Caxias do Sul	60.549	35.645	24.904
Caxias do Sul	53.136	27.778	25.358	Osório	39.600	20.323	19.277
Osório	33.876	15.506	18.370	Lajeado-Estrela	20.044	12.648	7.396
Menores saldos				Menores saldos			
Santo Ângelo	12.206	23.189	-10.983	Frederico Westphalen ...	9.169	18.794	-9.625
Três Passos	6.748	19.342	-12.594	Campanha Ocidental	12.926	29.025	-16.099
Frederico Westphalen ...	8.511	27.681	-19.170	Porto Alegre	141.545	163.223	-21.678
Rio Grande do Sul	113.395	152.890	-39.495	Rio Grande do Sul	102.613	177.263	-74.650

Fonte: *Carta de Conjuntura FEE*, ano 21, n. 8, ago. 2012.

Sobre as migrações no Rio Grande do Sul, é correto afirmar que

- (A) as mudanças nos padrões migratórios entre o final do século XX e o início do século XXI não foram significativas, tanto nas migrações intraestaduais quanto interestaduais.
- (B) a saída cada vez maior de pessoas do Rio Grande do Sul reflete mudanças nas cidades receptoras, com Porto Alegre deixando de ter saldo positivo, enquanto Caxias toma a dianteira nesse parâmetro.
- (C) as migrações no Estado estão restritas às maiores cidades que, por padrão, se desenvolvem mais do que pequenas cidades.
- (D) o Estado vem apresentando um saldo migratório decrescente.
- (E) o Rio Grande do Sul, por ser um dos Estados mais desenvolvidos do Brasil, atrai migrantes do país inteiro, como comprova o saldo migratório.